

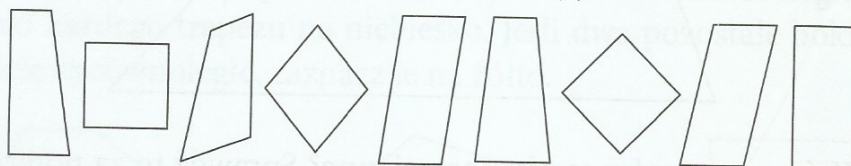
Temat: Klasyfikacja czworokątów.

Czworokąt – wielokąt płaski o czterech bokach. Odcinek łączący dwa niesąsiednie wierzchołki czworokąta nazywamy przekątną czworokąta.

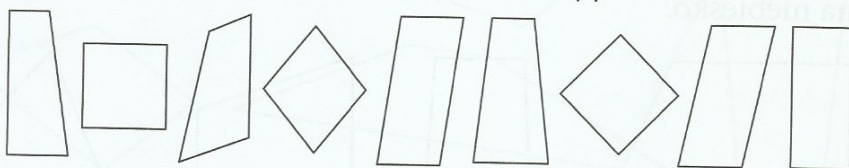
Każdy czworokąt ma dwie przekątne.

Wśród czworokątów można wyróżnić między innymi: trapezy, równoległoboki, prostokąty, deltoidy, romby, kwadraty.

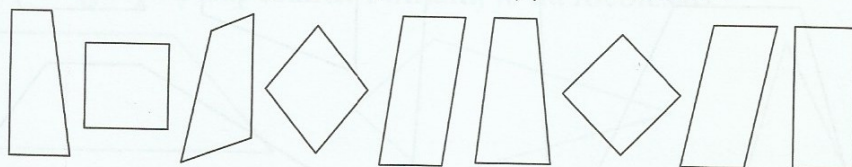
1 a) Na rysunku są dwa kwadraty. Pomaluj je na niebiesko.



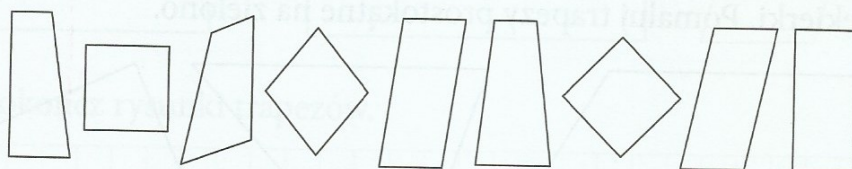
b) Na rysunku są trzy prostokąty. Pomaluj je na fioletowo.



c) Na rysunku są trzy romby. Pomaluj je na zielono.



d) Na rysunku jest sześć równoległoboków. Pomaluj je na pomarańczowo.



e) Na rysunku jest dziewięć trapezów. Pomaluj je na żółto.

