


5. Przyjrzyj się ilustracji i odpowiedz na pytania.



• Ile jest ?

 • Ile jest ?

 • Ile jest ?

 • Ile jest ?

• Ile jest  i  razem?

--	--	--	--	--	--	--	--	--	--

• Ile jest  i  razem?

--	--	--	--	--	--	--	--	--	--



• Ile jest ryb pomarańczowych?

--	--	--	--	--	--	--	--	--	--

• Ile jest ryb zielonych?

--	--	--	--	--	--	--	--	--	--

• Policz i powiedz, ile jest wszystkich ryb.

• Których ryb jest więcej:  czy ? Wpisz odpowiedni znak.

7			6
---	--	--	---

• Których ryb jest więcej: pomarańczowych czy zielonych? Zapisz liczby i odpowiedni znak.
