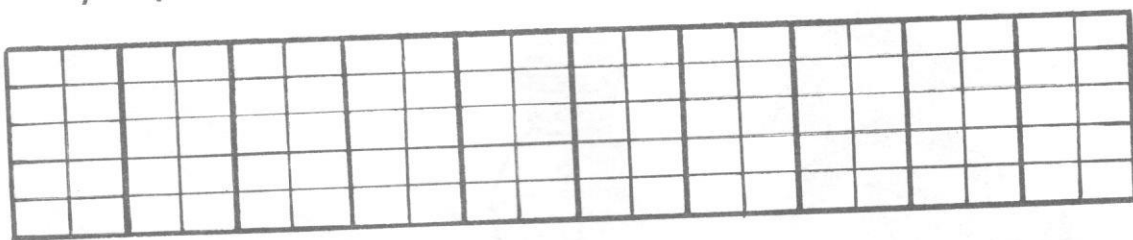



1. W skrzynce jest 100 kawałków kredy w dziesięciu pudełeczkach.  
W każdym pudełeczku jest 10 kawałków kredy.




Jak podzielisz 100 kawałków kredy po równo między dwie klasy?

$$100 = 50 + \square$$



$$50 = \square + \square$$



$$50 = \square + \square + \square + \square + \square$$

Ile pudełeczek kredy otrzyma każda klasa?  
Ile to kawałków kredy?

---

2. Oblicz.

$$100 = 50 + 20 + \square$$

$$100 - 25 = \square$$

$$100 = 40 + 20 + \square$$

$$100 - 15 = \square$$