


1 Układaj pchełki tak jak na obrazkach. Oblicz.

$$24 + 15$$




dziesiątki




$$20 + 10$$

jedności




$$4 + 5$$



$$24 + 15 = 20 + 4 + 10 + 5 = 30 + 9 =$$

2 Układaj pchełki tak jak na obrazkach. Oblicz.
Zapisz działanie.

$$25 + 31$$



$$25 + 31 = 20 + 5 + 30 + 1 =$$